



DIAGNOSTICO DE HISTORIA Y GEOGRAFIA

OCTAVO AÑO BASICO – 2021

Nombre	
Curso	Octavo año Básico

Observa este video te prestara ayuda para entender mejor esta temática.


<https://www.youtube.com/watch?v=xr3BoE8NOgk&feature=youtu.be>

En esta actividad identificarás algunos elementos del proceso de hominización. Mediante la lectura de un texto podrás relacionar conceptos y características de la evolución humana.

Algunos de los cambios que produjo la hominización pueden observarse en el cráneo de estos especímenes. Por ejemplo, cambió la forma de la cara, tamaño de la mandíbula y de la capacidad craneal.

Australopithecus Homo habilis Homo erectus

Homo neanderthal Homo sapiens Homo sapiens sapiens



La expansión del humano por el mundo

Las primeras migraciones

Lee el siguiente texto y luego realiza la actividad propuesta:

El Homo sapiens sapiens del Paleolítico (...) supo adaptarse a todos los ambientes por los que se extendió, tanto a las frías planicies cercanas a las masas de hielo como al calor de los bosques húmedos tropicales, en un inteligente ejercicio de superación que le obligó a desarrollar hábiles mecanismos de adaptación, instrumentos adecuados a cada medio y una estrategia de explotación del territorio (...).

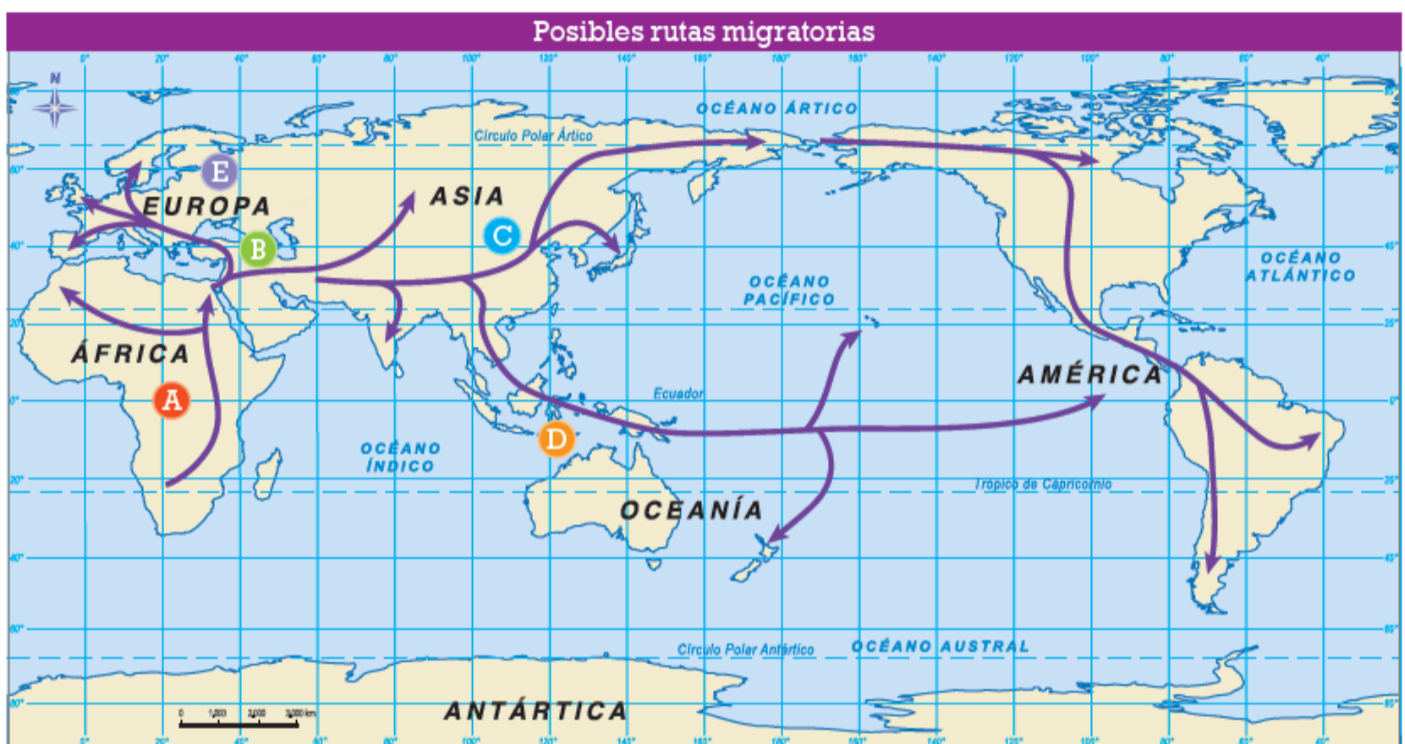
Eiroa, J. (2010). Prehistoria del mundo. Barcelona, España: Sello Editorial.

Elige uno de los ambientes descritos en la fuente (frías planicies o bosques húmedos tropicales) y explica cómo crees que el ser humano del Paleolítico se adaptó a él.

Como ya estudiaste anteriormente, los estudios arqueológicos permiten suponer que los primeros seres humanos se trasladaban de un lugar a otro. Estos exploraron lugares cada vez más lejanos y se expandieron por el planeta siguiendo distintas rutas. Algunas de las motivaciones que llevaron a los primeros homínidos a trasladarse fueron las siguientes:

Arqueólogos trabajando en Monte Verde

Para sustentar estas teorías, los investigadores se basan en los restos encontrados en sitios arqueológicos del mundo, como el que se ve en la imagen de la izquierda. El siguiente mapa muestra algunas de las posibles rutas migratorias que llevaron a nuestra especie a salir de África y expandirse hacia diferentes lugares.



A

El *Homo sapiens*, según los fósiles más antiguos hallados en Etiopía, surgió en el **oriente de África** hace aproximadamente 150.000 años y comenzó a migrar principalmente dentro del continente africano.

B

La primera migración fuera del continente africano se llevó a cabo hace aproximadamente 60.000 años, y en ella cruzaron al **continente asiático** y al **Cercano o Próximo Oriente**.

C

Desde el Cercano Oriente avanzaron, hace aproximadamente 45.000 años, por Asia. Hacia el norte, al sector de **China**, y al sur de Asia, en dirección de las **islas de Malasia, Indonesia, Singapur**, entre otras.

D

Llegaron a Australia hace 40.000 años aproximadamente y esta fue la plataforma de salida hace alrededor de 33.000 años, lo que llevó a los primeros humanos a recorrer los **archipiélagos del Pacífico**, como la Melanesia.

E

También se desplazaron hacia **Europa occidental**, entre 60.000 a 30.000 años atrás aproximadamente.

Responde las siguientes preguntas:

1. ¿Cuáles fueron los motivos que impulsaron a los primeros seres humanos a migrar?

2. ¿Qué características tuvieron las migraciones que realizaron los primeros seres humanos?

Teorías del poblamiento americano

En 1932, en la localidad de Clovis, Estados Unidos, se encontraron puntas de lanza y otros signos de ocupación humana que fueron datados de hace aproximadamente 12.000 años atrás. Durante mucho tiempo se pensó que eran los hallazgos arqueológicos americanos de mayor antigüedad. Sin embargo, en la década de 1970 se descubrió el asentamiento de Monte Verde, cerca de Puerto Montt, Chile. En él se encontraron restos arqueológicos que evidencian que el territorio chileno fue poblado hace unos 12.500 a 13.000 años atrás. Incluso, según algunos arqueólogos, hay hallazgos en el mismo sitio que datarían de hace unos 33.000 años atrás, lo que aún es discutido por diversos especialistas.

Según lo expuesto, **¿por qué crees que todavía no ha sido posible determinar una fecha exacta del poblamiento de América?, ¿con qué dificultades se han encontrado los científicos para llegar a una conclusión?** Comenta tu respuesta con un familiar que se interese en el tema.

Basándose en similitudes físicas y culturales entre pueblos originarios y también en los diversos vestigios de vida encontrados en el continente americano, los investigadores han establecido distintas teorías que intentan explicar cómo llegaron los primeros seres humanos a América. El siguiente mapa muestra algunas de ellas:

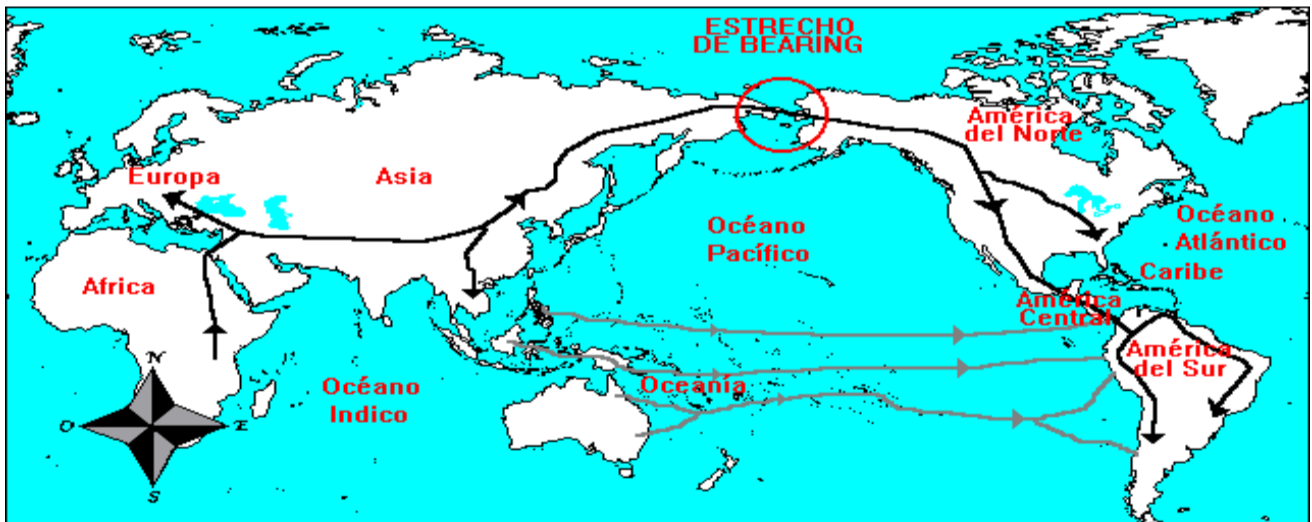
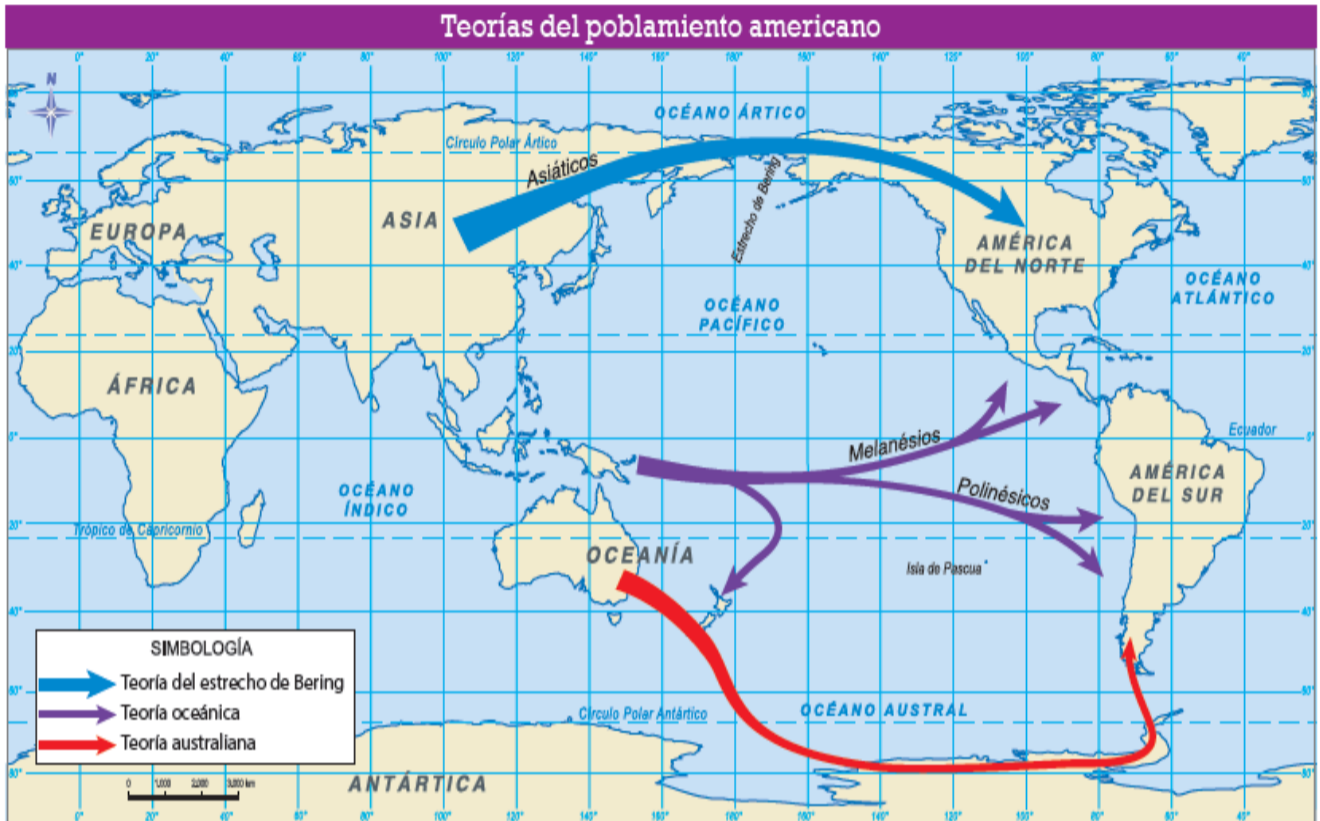
1.- ¿En qué lugar y fecha se encontraron herramientas utilizadas por humanos?

.....

2.-Completa el cuadro con los descubrimiento importantes de cada año

Año 1932	1970

Hace algunos años, el profesor Bruce Bradley y el doctor Dennis Stanford establecieron una nueva teoría que plantea que los primeros seres humanos llegaron a América no solo cruzando desde Asia o la Polinesia, sino que también desde Europa. Esta nueva tesis, que aún está siendo probada por la comparación de distintas evidencias arqueológicas y científicas, fue bautizada como “la travesía del hielo atlántico”.



3.-Observando el mapa realiza una lista en orden de cómo llegaron los seres humanos a América.

.....

.....

.....

.....

.....